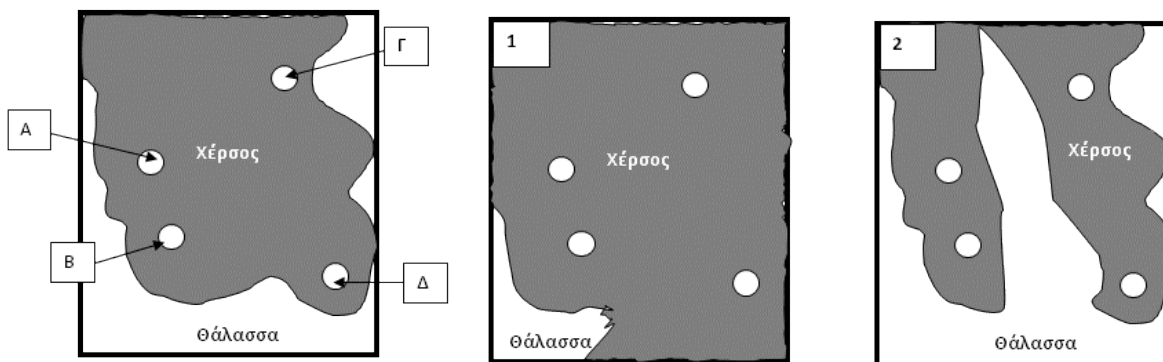


ΟΜΑΔΑ :

ΕΠΩΝΥΜΟ	ΑΕΜ	ΕΠΩΝΥΜΟ	ΑΕΜ	ΕΠΩΝΥΜΟ	ΑΕΜ

A. Δείκτες Ομοιότητας

Σε μία περιοχή ανακαλύφθηκαν τέσσερις απολιθωματοφόρες θέσεις χερσαίων σπονδυλωτών. Όλες χρονολογήθηκαν στο όριο Παλαιογενούς-Μειοκαίνου. Ποιο από τα δύο παλαιογεωγραφικά σενάρια (1 και 2) για το όριο Παλαιογενούς-Νεογενούς είναι το πλησιέστερο στην πραγματικότητα και γιατί?



	A	B	Γ	Δ
Είδος 1	+	-	-	-
Είδος 2	+	+	-	-
Είδος 3	-	+	+	+
Είδος 4	+	-	+	+
Είδος 5	+	+	-	-
Είδος 6	-	-	+	+
Είδος 7	+	+	-	+
Είδος 8	-	-	+	+


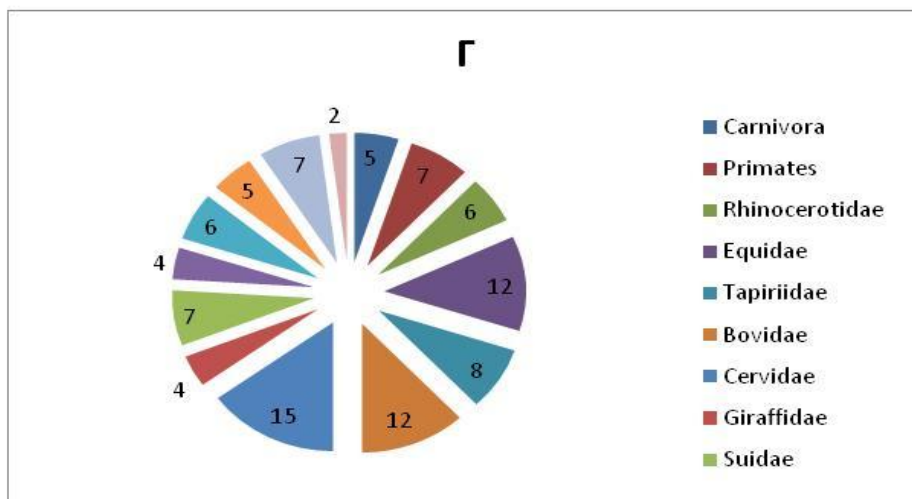
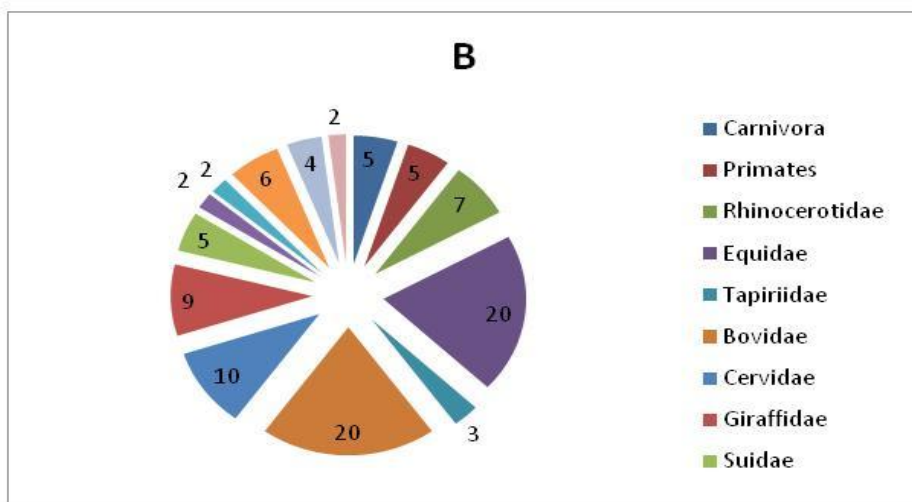
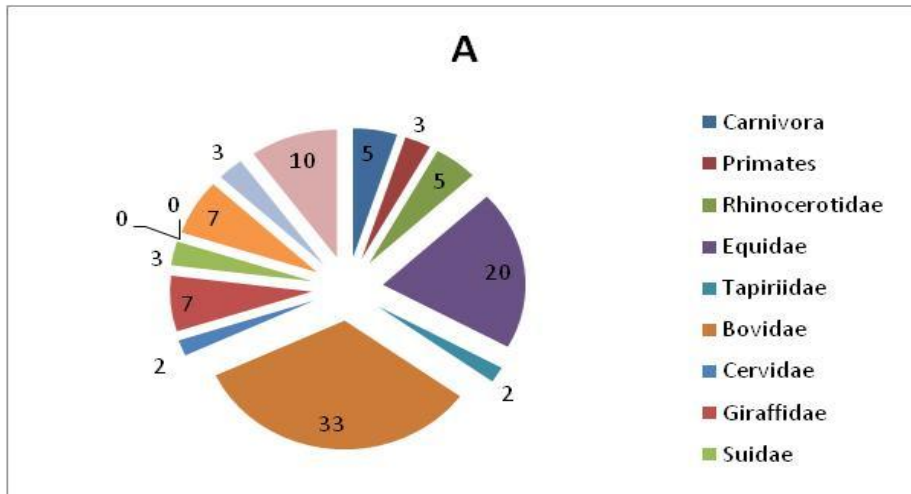
Simpson

	A	B	Γ	Δ
A				
B				
Γ				
Δ				

Pickford

	A	B	Γ	Δ
A				
B				
Γ				
Δ				

Β. Πανδική Σύνθεση



Γ. Κενογράμματα

Σε μία περιοχή ανακαλύφθηκαν 5 απολ. θέσεις θηλαστικών και κατασκευάστηκαν τα κενογράμματά τους. Ποιες οι αλλαγές του περιβάλλοντος μέσα στο γεωλ. χρόνο?

